
	<b>INSTITUCIÓN EDUCATIVA LOS GÓMEZ</b> <i>“Pensando en las futuras generaciones, construimos hoy; conocimiento, respeto y democracia”</i>	 CO-SC-CER352434
CÓDIGO DP-FO-09	<b>PLAN DE APOYO</b>	VERSIÓN: 4

**FECHA: Mayo de 2017**

**PERIODO: II**

**GRADO:**

Aceleración del Aprendizaje

**DOCENTE:** Esilda Rivero- Adriana Patricia Villada Gómez      **AREA: SOCIALES**

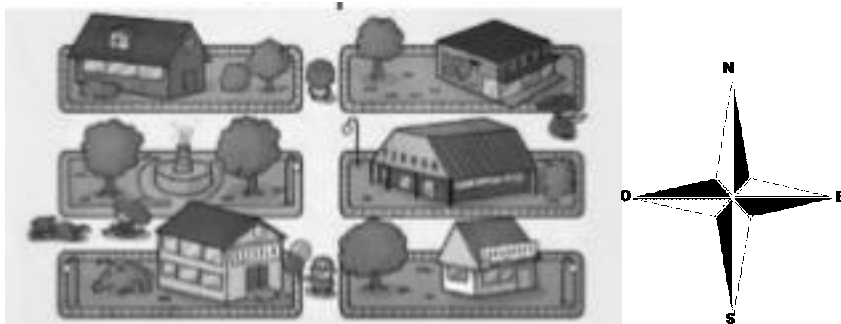
**NOMBRE DEL ESTUDIANTE:** \_\_\_\_\_

**LOGRO O LOGROS NO ALCANZADOS DURANTE EL PERÍODO:**

- Comprensión de las relaciones entre los espacios físicos que ocupa( salón de clase, colegio, vereda) y sus representaciones( mapas, planos, maquetas)
- Realización de recorridos y ubicación de referentes, teniendo en cuenta los puntos cardinales
- **PRESENTACIÓN DEL TRABAJO**  
El taller debe entregarse, en las fechas establecidas, en hojas de block (limpio y ordenado) a mano y prepararse para la socialización o sustentación en forma oral o escrita según fechas asignadas. Se calificara de la siguiente manera:  
Presentación:  
Sustentación oral:  
Sustentación escrita:


• **TALLER A DESARROLLAR:**

1. Encierra en un **Círculo rojo** al niño que mira al norte y con un **circulo azul** a la niña que mira el este



2. Escribe en los recuadros los puntos cardinales (N-S-O-W) y dibuja los siguientes elementos alrededor del niño así:

- Al sur----- Un árbol
- Al norte----- una casa
- Al oriente----- una montaña •
- Al occidente---- un río



3. Ubica los países y océanos con los cuales limita Colombia



- Investiga acerca de la empresa Colombiana, ECOPETROL. ¿Cuándo fue fundada? ¿en qué consiste su actividad económica? ¿cuál es su importancia? ¿Cuál es su logotipo?
- Ubicar con que países limita Colombia en la siguiente rosa de los vientos



- Escribe por qué son de gran beneficio social las normas. Escribe 3 ejemplos sobre estos beneficios
- Escribe la diferencia que hay entre Plano y Mapa

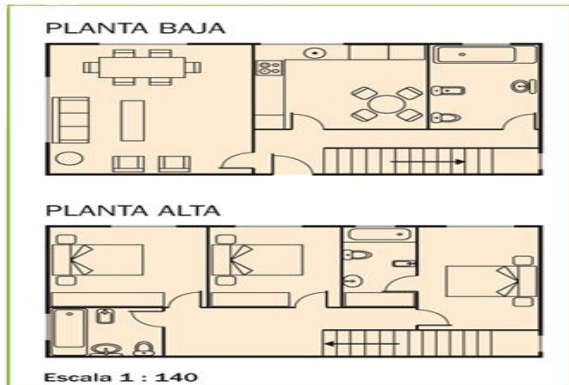


← Plano

Mapa →



8- Observa el siguiente plano y responde



Camila trabaja en una inmobiliaria, dando información a los clientes sobre las viviendas que se están construyendo y les entrega los planos:

- A- ¿Cuántas plantas tiene la vivienda? \_\_\_\_\_
- B- ¿Cuántas habitaciones hay en cada planta? \_\_\_\_\_
- C- ¿Qué forma de figura geométrica tiene la cocina? \_\_\_\_\_