

	INSTITUCIÓN EDUCATIVA LOS GÓMEZ <i>“Pensando en las futuras generaciones, construimos hoy; conocimiento, respeto y democracia”</i>	 <small>CO-SC-CER352434</small>
CÓDIGO DP-FO-09	PLAN DE APOYO	VERSIÓN: 4

FECHA: Mayo- 2018 **PERIODO:** 2 **GRADO:** Aceleración del Aprendizaje
DOCENTE: Adriana Patricia Villada Gómez **AREA:** Sociales
NOMBRE DEL ESTUDIANTE: _____

• **LOGRO O LOGROS NO ALCANZADOS DURANTE EL PERÍODO:**

- Comprensión de las relaciones entre los espacios físicos que ocupa (salón de clase, colegio, municipio, vereda) y sus representaciones (mapas, planos, maquetas)
- Reconocimiento de las diferentes formas de ubicación en el tiempo y en el espacio.
- Realización de recorridos y ubicación de referentes, teniendo en cuenta los puntos cardinales
- Identificación de costumbres, tradiciones de un grupo poblacional y sus características

• **PRESENTACIÓN DEL TRABAJO**

El taller debe entregarse, en las fechas establecidas, en hojas de block (limpio y ordenado) a mano y prepararse para la socialización o sustentación en forma oral o escrita según fechas asignadas. Se calificara de la siguiente manera:

Presentación: 30%


Sustentación: 70%

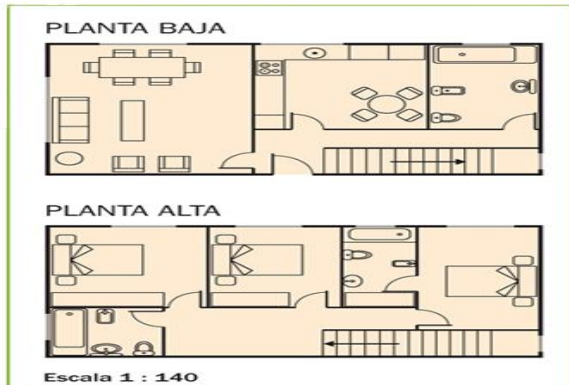
• **TALLER A DESARROLLAR:**

1. Escribe en cada definición, el número del significado que le corresponda.

___ PLANO	1. Figura que sirve para representar gráficamente los puntos cardinales y los puntos intermedios.
___ CONVENCIONES	2. Representaciones gráficas en las que se dibujan los lugares mediante líneas y figuras geométricas.
___ PUNTOS CARDINALES	3. Referentes universales que nos sirven para orientarnos en el espacio.
___ MAPAS	4. Instrumento que sirve para ubicar los puntos cardinales.
___ ROSA DE LOS VIENTOS	5. representaciones gráficas de lugares muy extensos sobre una superficie plana.
___ BRÚJULA	6. Símbolos que se utilizan en los mapas y en los planos para representar elementos de la realidad.

2. Observa el siguiente plano y responde

	INSTITUCIÓN EDUCATIVA LOS GÓMEZ <i>"Pensando en las futuras generaciones, construimos hoy; conocimiento, respeto y democracia"</i>	 CO-SC-CER352434
CÓDIGO DP-FO-09	PLAN DE APOYO	VERSIÓN: 4




Camila trabaja en una inmobiliaria, dando información a los clientes sobre las viviendas que se están construyendo y les entrega los planos:

- ¿Cuántas plantas tiene la vivienda? _____
- ¿Cuántas habitaciones hay en cada planta? _____
- ¿Qué forma de figura geométrica tiene la cocina? _____

3. Escribe en los recuadros los puntos cardinales (N-S-O-W) y dibuja los siguientes elementos alrededor del niño así:

- Al sur----- Un árbol
- Al norte----- una casa
- Al oriente----- una montaña •
- Al occidente---- un río



4. LA HISTORIA DE MI INSTITUCION

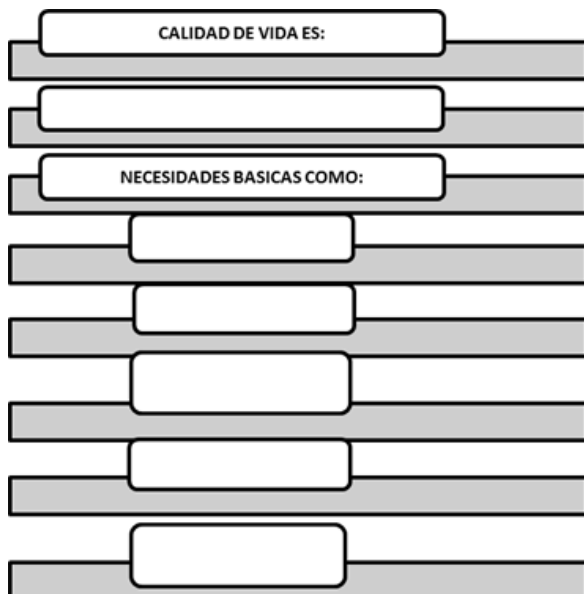
- Reseña histórica de la Institución Educativa los Gómez
- ¿Cuál es el nombre del colegio?
- ¿Por qué tiene ese nombre?
- ¿Cuándo fue creado?
- ¿Por qué fue creado en este lugar?
- ¿Cuál es su dirección actual?

g) ¿Qué mejoras ha recibido desde que se fundó?

5. Une cada concepto con un color diferente para cada definición correcta

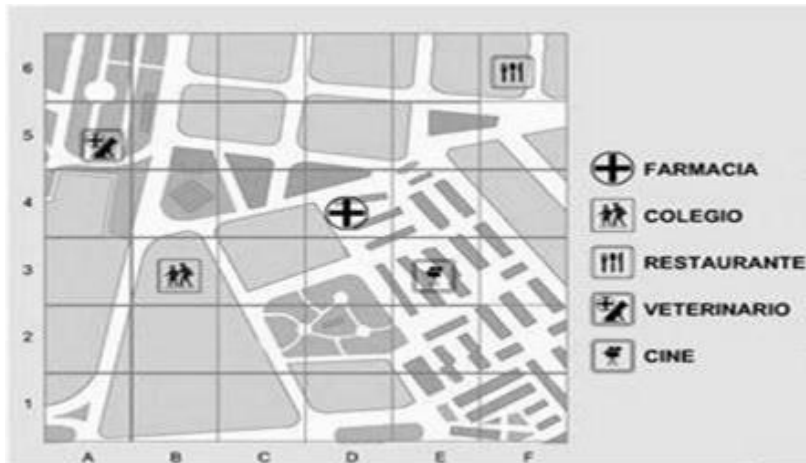
Representaciones y esquemas de casas, barrios y edificios...		Calidad de vida
Reproducción de un monumento, edificio u otra construcción (reales o proyectados) hecha a escala en tamaño reducido.		Proyecto Comunidad
Conjunto de personas que viven juntas bajo ciertas reglas o que tienen los mismos intereses.		Plano
Persona que participa activa y responsablemente, cumpliendo sus deberes y exigiendo sus derechos.		Ciudadano
Posibilidades que tiene las personas o grupos sociales para satisfacer sus necesidades básicas.		maqueta
Dan soluciones innovadoras a problemas de aprendizaje o de la comunidad.		

6. Completa el siguiente mapa conceptual sobre calidad de vida



	INSTITUCIÓN EDUCATIVA LOS GÓMEZ <i>"Pensando en las futuras generaciones, construimos hoy; conocimiento, respeto y democracia"</i>	 CO-SC-CER352434
CÓDIGO DP-FO-09	PLAN DE APOYO	VERSIÓN: 4

7. Interpreta el siguiente plano



Según las convenciones

La farmacia se encuentra entre la letra_____ y el numero_____

El colegio se encuentra entre la letra_____ y el numero_____

El restaurante se encuentra entre la letra_____ y el numero_____

La farmacia se encuentra entre la letra_____ y el numero_____

El cine se encuentra entre la letra_____ y el numero_____



INSTITUCIÓN EDUCATIVA LOS GÓMEZ

"Pensando en las futuras generaciones, construimos hoy; conocimiento, respeto y democracia"



CO-SC-CER352434

CÓDIGO DP-FO-09

PLAN DE APOYO

VERSIÓN: 4