

AREA: ___CIENCIAS SOCIALES Y COMPETENCIA CIUDADA___ Grad0: 9°_ PERIODO: _1_

DOCENTE: __YUVER SENEN MORENO_____ FECHA: MAYO_-2018_____

INDICADOR DE DESEMPEÑO: Reconoce las características generales del territorio Colombia , posición astronómica, geográfica, relieve, clima, hidrografía, población

Nombre del estudiante: _____grupo. -----

ACTIVIDAD: lee el documento y responde las actividades

Plan de acción

Obs:

Etapa No	Actividad	Fecha de entrega	Forma de entrega	Lugar de entrega
1	Resolver el Cuestionario-taller y estudiarlo para la sustentación	5 mayo	Escrita en hojas tamaño carta, a mano, según normas ICONTEC	,
2	Presentación de sustentación del Cuestionario-Taller de manera escrita	02 MAYO 2018	Evaluación de Sustentación escrita - dialogado	
3	Notificación de resultados a estudiantes.		Vía e-mail. Verbal.	

CON LOS CONOCIMIENTOS ADQUIRIDOS EN LAS CLASES Y TUS CONOCIMIENTS REALIZA LAS SIGUIENTES ACTIVIDADES



ACTIVIDAD 1

1. Elabora el mapa y, escribe el nombre de los países con los cuales limita Colombia.

- Colorea de rojo los lugares con los que limita nuestro país en Oriente.
- Colorea de verde los lugares con los que limita nuestro país en Occidente.
- Colorea de azul los lugares con los que limita nuestro país en el Sur.
- Colorea de amarillo los lugares con los que limita nuestro país en el norte.

2. **Observa las formas de relieve del lugar donde vives y explica a qué conjunto y a qué tipo de relieve perteneces.**


3. **da respuesta a las siguientes preguntas**

- ❖ Escribe la definición de Geosfera, hidrosfera Y atmosfera.
- ❖ ¿Que estudia la geología?
- ❖ ¿Para qué sirven las coordenadas geográficas?
- ❖ ¿A qué se refiere la latitud?
- ❖ ¿A qué se refiere la posición astronómica?
- ❖ ¿Qué es un clima de latitud?
- ❖ ¿Cómo se presenta un clima por altitud?
- ❖ ¿Que estudia la hidrografía?
- ❖ ¿Qué diferencia existe entre mareas y olas?
- ❖ ¿Qué es una corriente marina?

4. Destaca dos ventajas que tú consideres importantes de la posición geográfica de Colombia.

5. Escribe falso (F) o verdadero (V), frente a cada afirmación, según corresponda. Luego, convierte en verdaderas las afirmaciones falsas.

- Gracias a la posición geográfica de nuestro país, Colombia cuenta con territorio solamente en el hemisferio norte ()
- El territorio colombiano es el punto de unión entre Suramérica y Centroamérica. ()
- Brasil y Colombia son los dos únicos países de Suramérica que cuentan con dos océanos: el



Pacífico y el Atlántico. ()

6. Presenta algunas noticias relacionadas con el fallo de la Corte Internacional de Justicia de la Haya frente a los límites marinos entre Colombia y Nicaragua.

7. Investiga el nombre de algunos volcanes de nuestro país.

8. Investiga el nombre de algunos nevados de nuestro país.

9. Presenta un mapa conceptual con el relieve montañoso de Colombia

10. Presenta un mapa conceptual con las zonas planas de Colombia

11. Las vertientes hídricas de Colombia son:

12. ¿Por qué debemos cuidar nuestros recursos hídricos?

13. ¿Qué problemas se presentan cuando no tenemos acceso al agua potable?

14. Presenta en una hoja de block, algunas imágenes relacionadas con acciones que van en contra


de la conservación del agua. (Anexar a la carpeta.)

15. Elabora un dibujo de un paisaje natural donde se logra resaltar algunas partes importantes del relieve colombiano

16. Responde las siguientes preguntas

- ❖ ¿Que estudia la geografía?
- ❖ ¿Cuáles son las dos grandes ramas de la geografía?
- ❖ ¿Que estudia la geografía humana?
- ❖ ¿Que representa un planisferio?
- ❖ ¿Cuál es la utilidad de los mapas?
- ❖ ¿Qué es un plano?
- ❖ ¿Qué es el sistema solar?
- ❖ ¿Qué nombre recibe la galaxia en donde se ubica nuestro sistema solar?
- ❖ ¿Cuáles son las cuatro partes del sol?
- ❖ ¿Qué es un planeta .un cometa y un meteorito?
- ❖ ¿Qué efecto tiene la gravedad lunar en la tierra?
- ❖ ¿A qué se debe un eclipse lunar?
- ❖ ¿Qué consecuencias trae el grado de inclinación de la tierra?
- ¿Qué tipo de figura geométrica describe el movimiento de traslación en la tierra?
- ❖ ¿Por qué se dice que Colombia es el país más septentrional de América del Sur?

- ❖ ¿Cuáles son los límites de Colombia?
- ❖ ¿Qué islas pertenecen a Colombia?
- ❖ ¿Qué ríos nacen en la Cordillera Occidental?
- ❖ ¿Qué ríos se encuentran entre la Cordillera Occidental y Central?
- ❖ ¿Cuáles ríos nacen en la Cordillera oriental?
- ❖ ¿Cuáles ríos desembocan en la vertiente del Amazonas?
- ❖ Las lagunas más importantes de Colombia son...
- ❖ ¿Cómo es el clima de Colombia?
- ❖ Realiza la escala de los pisos térmicos existentes en Colombia.
- ❖ ¿Cuál es la base de la economía en Colombia?
- ❖ ¿Cuáles son los principales productos que se cultivan en Colombia?
- ❖ ¿Qué productos minerales se explotan en Colombia?
- ❖ ¿Que se produce en el sector industrial?
- ❖ ¿Cómo es la población de Colombia?
- ❖




ACTIVIDAD 2

1. En el mapa de Colombia, ubica y colorea los siguientes aspectos del relieve:

1.Cordillera Oriental	2.Cordillera Central	3. Cordillera Occidental	4. Serranía del Baudó
5.Sierra Nevada de Santa Marta	6. Serranía de la Macarena	7. Río Cauca	8. Río Magdalena
9. Río Patía	10. Río Sinú	11. Río Atrato	12. Río Putumayo
13. Río Caquetá	14. Río Amazonas	15. Río Guaviare	16. Río Meta
17. Río Orinoco	18. Río Arauca	19. Río Vaupés	20. Río Guainía
21.Altiplano Cundiboyacense	22.Llanos Orientales	23.Depresión Momposina	24. Archipiélago de San Andrés y Providencia






3. Encuentra en la sopa de letras 20 palabras relacionadas con el aspecto físico de Colombia.


Y plantea la importancia de 10 de los lugares encontrados.

Q	C	R	C	C	V	F	U	E	V	N	D	W	H	U	I	L	A	A	O	I
H	C	O	I	A	A	H	E	C	E	P	G	B	C	B	O	L	C	N	S	A
C	B	O	R	O	Z	R	I	A	S	P	A	O	Q	A	E	U	I	E	N	A
O	W	X	C	D	A	U	I	N	K	M	F	U	I	P	A	D	D	A	N	V
R	T	F	Y	O	I	T	F	B	W	A	D	L	A	C	N	N	U	E	Z	I
D	R	S	A	S	N	L	R	R	E	Q	H	Y	O	A	A	J	V	W	O	V
I	N	Q	Y	T	N	U	L	A	A	F	A	I	O	S	A	H	B	Q	Y	E
L	E	F	N	O	X	W	C	E	T	L	R	I	O	N	S	E	W	O	N	L
L	V	W	O	N	W	X	D	O	R	O	R	L	O	D	F	P	Z	G	J	V
E	A	O	J	A	Y	N	T	L	S	A	E	D	F	M	I	R	J	E	N	N
R	D	O	V	W	I	J	A	S	A	D	O	P	Q	R	L	O	S	Z	L	I
A	O	S	N	E	U	B	A	N	A	A	O	C	A	U	S	P	K	V	R	N
O	D	I	Z	D	M	R	E	R	T	O	F	R	C	C	I	O	E	P	O	T
R	E	E	W	U	E	R	E	R	E	E	X	H	I	I	I	N	T	B	J	R
I	L	F	C	L	A	L	A	Z	G	G	N	Q	A	N	D	F	D	A	I	H
E	R	K	A	C	L	M	W	I	Q	Q	Z	P	W	W	O	E	I	I	R	M
N	U	G	A	I	A	K	E	G	O	G	Q	Y	G	W	W	Q	N	C	O	A
T	I	M	D	T	F	J	O	X	R	Y	N	E	M	S	J	I	U	T	O	A
A	Z	R	N	I	E	F	S	A	N	T	A	I	S	A	B	E	L	I	A	R
L	O	A	S	A	T	O	R	I	O	M	A	G	D	A	L	E	N	A	A	L
C	S	H	H	C	O	R	D	I	L	L	E	R	A	C	E	N	T	R	A	L

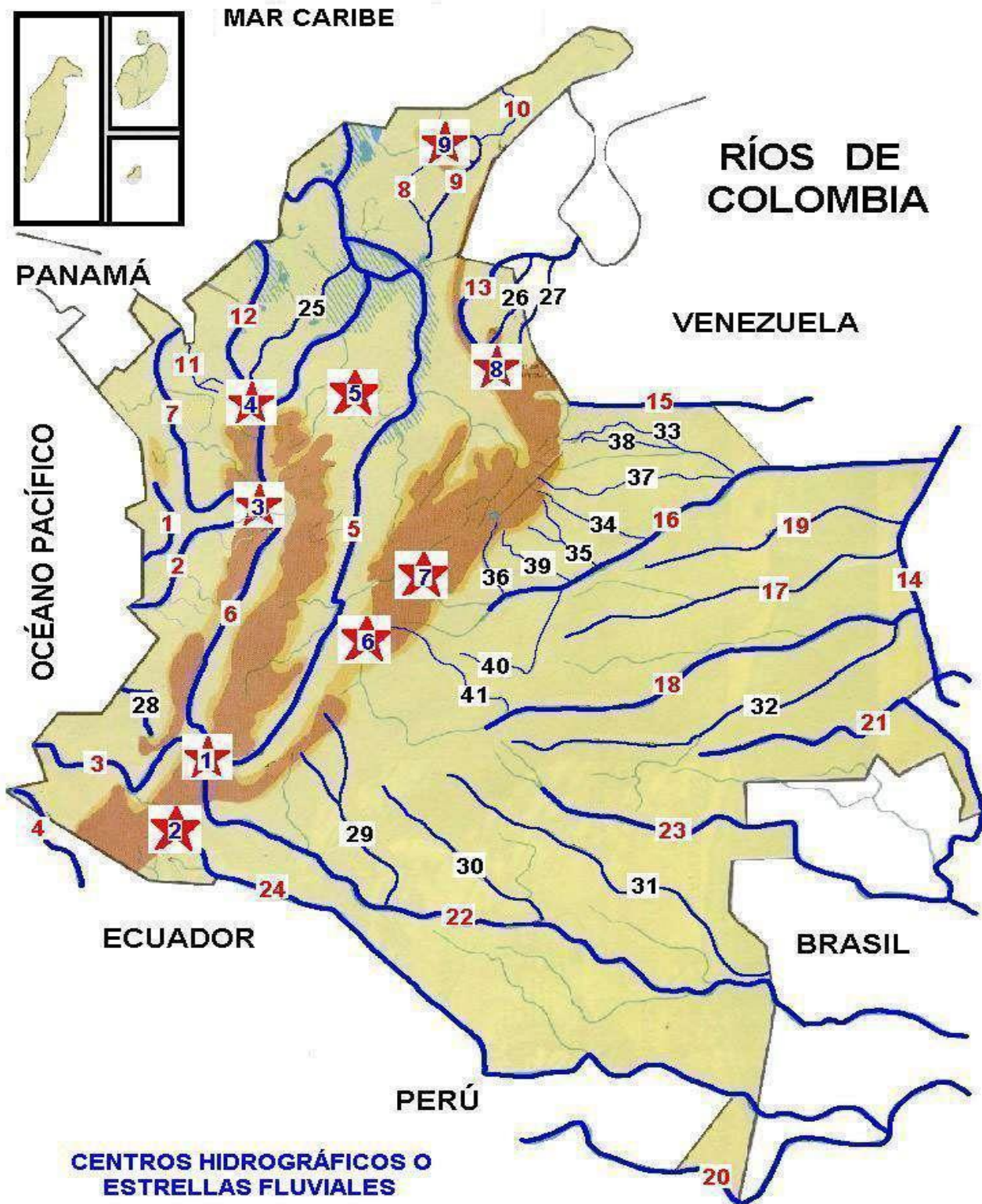


13. Pinte de un color diferente las regiones de Colombia, coloque sus nombres y ubique las llanuras según la región a la que pertenecen.





14. Ubica el nombre de los diferentes ríos que aparecen enumerados en el mapa.



CENTROS HIDROGRÁFICOS O ESTRELLAS FLUVIALES



MACIZO COLOMBIANO



NUDO DE LOS PASTOS O DE HUACA



CERRO DE CARAMANTA



NUDO DE PARAMILLO



MACIZO ANTIOQUEÑO



PÁRAMO DE SUMAPAZ



PÁRAMO DE GACHANEQUE O ESTRELLA DEL ALTIPLANO ORIENTAL



NUDO DE SANTURBÁN




SIERRA NEVADA DE SANTA MARTA



**INSTITUCIÓN
EDUCATIVA
CIUDAD ITAGÜÍ**

GUIA- TALLER

**CÓDIGO
GA2 PR1 FR3**



Página 7 de 2

