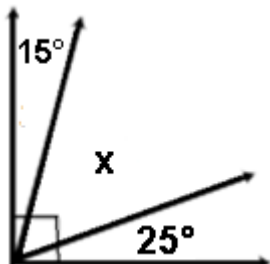
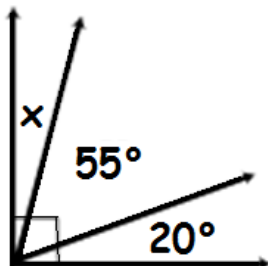


PRESENTAR EL SIGUIENTE TALLER
RESUELTO PARA POSTERIOR
SUSTENTACIÓN

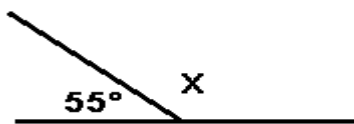
1. Resolver para x los siguientes ejercicios



2.

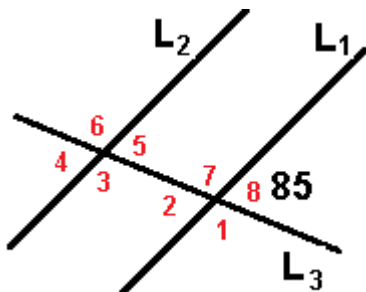


3.

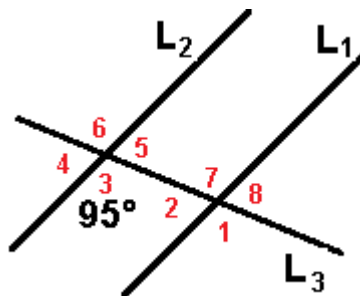


Hallar los ángulos en cada uno de los vértices, Según la figura, L1 y L2 paralelas y L3 secante. Justificar el valor de cada ángulo hallado.

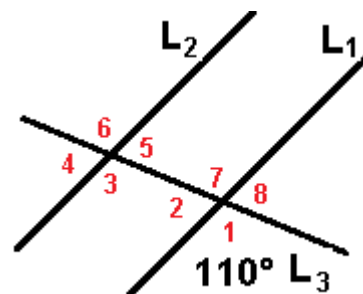
4. .



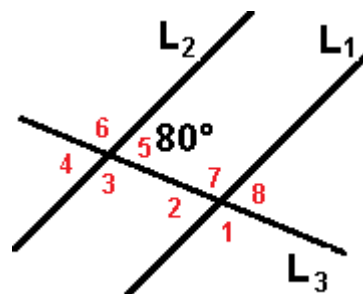
5. .



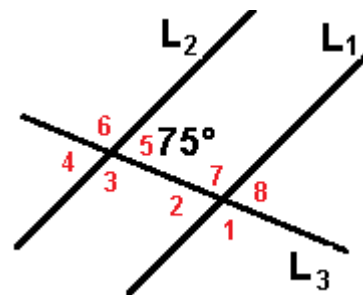
6. .



7. .



8. .






**INSTITUCIÓN
EDUCATIVA
CIUDAD ITAGÜÍ**

**EVALUACIÓN DE PERÍODO DE
8°**

**CÓDIGO
GA2 PR2 FR9**



Página 2 de 2

