



SECRETARÍA DE EDUCACIÓN DE MEDELLÍN
INSTITUCIÓN EDUCATIVA JUAN XXIII
PLAN DE MEJORAMIENTO

ASIGNATURA / AREA	MATEMÁTICAS	GRADO:	PRIMERO
PERÍODO	SEGUNDO	AÑO:	2018
NOMBRE DEL DOCENTE	LUZ ANGELA MARÍN GÓMEZ SANDRA MILENA NARANJO ALVAREZ		
NOMBRE DEL ESTUDIANTE			

LOGROS:

Comprende y describe de forma clara y coherente los diferentes usos de los números según sus necesidades.

Describe los diferentes cambios y variaciones que se llevan a cabo en diferentes organizaciones de una serie de objetos.

Expresa sus ideas, sentimientos e intereses en el salón y escucha respetuosamente los de los demás miembros del grupo.

ACTIVIDADES PRÁCTICAS A DESARROLLAR:

1. Coloca el signo mayor q o menor q

				2	36	52	84		
				34	52	21	25		
				41	56	58	26		
				97	55	68	80		
				67	82	39	54		
				20	47	67	42		
				27	83	42	84		
				24	97	16	89		
				45	57	30	92		
				82	27	73	39		

< es menor que...
> es mayor que...
= es igual que...

2. Realizo las siguientes sumas

$\begin{array}{r} 5 \\ + 5 \\ \hline \end{array}$	$\begin{array}{r} 2 \\ + 8 \\ \hline \end{array}$	$\begin{array}{r} 7 \\ + 3 \\ \hline \end{array}$	$\begin{array}{r} 6 \\ + 4 \\ \hline \end{array}$	$\begin{array}{r} 9 \\ + 2 \\ \hline \end{array}$	$\begin{array}{r} 4 \\ + 7 \\ \hline \end{array}$	$\begin{array}{r} 5 \\ + 6 \\ \hline \end{array}$	$\begin{array}{r} 8 \\ + 3 \\ \hline \end{array}$
---	---	---	---	---	---	---	---



SECRETARÍA DE EDUCACIÓN DE MEDELLÍN
INSTITUCIÓN EDUCATIVA JUAN XXIII
PLAN DE MEJORAMIENTO

3. Resuelvo los siguientes problemas de acuerdo a la operación requerida

1 Hay 5 peras y me como 2. ¿Cuántas quedan?



2 Hay 6 magdalenas y me como 2. ¿Cuántas quedan?



3 Tenía 10 galletas. Si me como 3, ¿cuántas me quedan?






4 Tengo 7 mariposas y encuentro 3. ¿Cuántas tengo en total?



5 Tengo 5 flores y encuentro 3 más. ¿Cuántas tengo en total?



4. Descompone los siguientes números

 C	 D	 U	Descomposición numérica
7 C	3 D	1 U	731
			753
			486
			869
			853
			573



SECRETARÍA DE EDUCACIÓN DE MEDELLÍN
INSTITUCIÓN EDUCATIVA JUAN XXIII
PLAN DE MEJORAMIENTO

5. Resuelve las siguientes restas

$$\begin{array}{r} 6 \\ - 4 \\ \hline \end{array} \quad \begin{array}{r} 9 \\ - 3 \\ \hline \end{array} \quad \begin{array}{r} 8 \\ - 1 \\ \hline \end{array} \quad \begin{array}{r} 7 \\ - 6 \\ \hline \end{array} \quad \begin{array}{r} 9 \\ - 8 \\ \hline \end{array} \quad \begin{array}{r} 4 \\ - 2 \\ \hline \end{array} \quad \begin{array}{r} 7 \\ - 4 \\ \hline \end{array} \quad \begin{array}{r} 9 \\ - 1 \\ \hline \end{array}$$

6. Resuelve los siguientes problemas (realiza las operaciones necesarias)

- El día de los niños, Camilo recogió 43 dulces, y su primo Santiago recogió 50.
¿Cuántos dulces recogieron entre los dos?
- Catalina tiene una colección de 27 cuentos y Camila tiene una colección de 12 cuentos. ¿Cuántos cuentos en total tienen las dos niñas?
- En la biblioteca España había 65 visitantes. Salieron 42 personas. ¿Cuántos visitantes quedan en la biblioteca?
- Laura tenía 63 piedras para hacer collares. Si utilizó 59 piedras en un collar, ¿Cuántas piedras le quedaron?

RECURSOS:
Cuaderno

OBSERVACIONES: Desarrollar en el mismo documento, entregar bien organizado y limpio. Los planes de apoyo solamente se recibirán en la fecha establecida

FECHA DE ENTREGA DEL TRABAJO
Semana del 6 al 10 de agosto de 2018

FECHA DE SUSTENTACIÓN
Semana del 6 al 10 de agosto de 2018

APOYO BIBLIOGRAFICO

FIRMA DEL EDUCADOR(A)