



**INSTITUCIÓN EDUCATIVA LUCRECIO JARAMILLO VÉLEZ  
SEDE AGRUPACION COLOMBIA**

**PLAN DE APOYO PRIMER PERIODO GRADO SEGUNDO  
AREA: MATEMÁTICAS**

**Área:** Matemáticas

**Docentes:** Soraida Patricia Agudelo Díaz y John Elías Orrego Tamayo

**Grado:** Segundo

**Nota:** A continuación encuentras la lista de temas que debes estudiar y repasar para luego presentar una evaluación que te permite recuperar una nota en el aspecto cognitivo. Debes apoyarte en lo trabajado en el cuaderno y buscar documentos y videos en la web para prepararte bien

**Temas:**

Lectura y escritura de números hasta de cuatro y cinco cifras.

Orden y comparación de números

Longitud (medir objetos)

Pictogramas y tablas de datos

**Indicadores a evaluar:**

Reconoce, escribe y lee números de cuatro y cinco cifras

Comprende datos recolectados de situaciones dadas.

**Actividades sugeridas para preparar la evaluación:**

1. Escribe en letras:

Número	Lectura
3.567	
45.871	
10.050	
1.398	
989	



2. Escribe en números:

Lectura	número
Treinta y dos mil ciento quince	
Once mil doscientos treinta y cinco	
Quinientos cinco	
Mil cuatrocientos sesenta	
Ocho mil ciento cincuenta y tres	

3. Escribe el  $>$ ,  $<$  o  $=$  según corresponda:

- 23.534 \_\_\_\_\_ 23.345  
10.099 \_\_\_\_\_ 10.009  
1.325 \_\_\_\_\_ 1.325  
43.245 \_\_\_\_\_ 43.242  
28.000 \_\_\_\_\_ 27.000  
18.325 \_\_\_\_\_ 16.450  
64.656 \_\_\_\_\_ 64.566  
11.200 \_\_\_\_\_ 9.435  
1.055 \_\_\_\_\_ 10.550

4. Observa la medida de los objetos y responde:



El lapicero mide:


- A. 8 cm
- B. 10 cm
- C. 11 cm

El sacapuntas mide:

- A. 4 cm
- B. 6 cm
- C. 1 cm

5. Observa el pictograma y luego responde:



Cada  = 2 votos

- ¿Cuántos niños votan para ir al circo?
- ¿Cuántos niños hay en total sumando todos los lugares?
- ¿Cuántos niños más prefieren ir al museo en vez de ir al parque?

6. Observa la tabla de datos y luego responde:

Deportes preferidos	Número de niños
Baloncesto	11
Fútbol	25
Voleibol	16

1. ¿Cuál es el deporte que más prefieren los niños?
  2. ¿cuál es de menos preferencia?
  3. ¿Cuántos niños más prefieren jugar fútbol que baloncesto?
  4. ¿Cuánto suma el total de niños que prefieren voleibol baloncesto?
  - 5.
7. Realiza una tabla como la anterior para representar los resultados de la siguiente encuesta, luego formula algunas preguntas y les das respuesta.

En un grupo de niños se preguntó sobre la mascota preferida y salieron los siguientes resultados:

- Perro = 16 niños
- Gato = 9 niños
- Peces = 32 niños