
	Municipio De Medellín	 <b>Alcaldía de Medellín</b> <b>Cuenta con vos</b>
	Secretaría De Educación Municipal	
	Institución Educativa El Diamante	
	PLANEACIÓN -TRANSPOSICIÓN DIDÁCTICA DEL PLAN DE ESTUDIOS DE EXPEDICIÓN CURRÍCULO	

## MATEMÁTICAS

Taller de recuperación segundo período Grado 5°

NOMBRE DEL ESTUDIANTE: \_\_\_\_\_



Análisis e interpretación de medidas de tendencia central.

Resolución de situaciones problemas asociadas a la teoría de números.



Según la gráfica responde:

- ¿Cuál es la moda?
- ¿cuál es la segunda mascota que más se tiene?
- ¿cuál dato de la gráfica es exactamente la mitad de la moda?

	Municipio De Medellín	 <b>Alcaldía de Medellín</b> <b>Cuenta con vos</b>
	Secretaría De Educación Municipal	
	Institución Educativa El Diamante	
	PLANEACIÓN -TRANSPOSICIÓN DIDÁCTICA DEL PLAN DE ESTUDIOS DE EXPEDICIÓN CURRÍCULO	

**2°) RESUELVE LOS PROBLEMAS. ENCUENTRA LA RESPUESTA Y LUEGO HAGAS LAS OPERACIONES QUE DAN ESTA RESPUESTA**

- **1. En una granja avícola se producen 12 384 pollitos, los mismos que serán transportados en cajas con ventilación en las que caben 96 pollitos. ¿Cuántas cajas se necesitan para transportar a todos los pollitos?**

- A) 128
- B) 130
- C) 118
- D) 129

- **2. Alejandro tiene 600 canicas y como se va a ir a vivir a Guadalajara se las va a regalar a sus 12 amigos en partes iguales. ¿Cuántas canicas le dará a cada amigo?**

- A) 600 - 12
- B) 660/12
- C) 600 + 12
- D) 600 x 12

- **3. ¿Cuál es la cantidad de losetas que caben en un piso que tiene 5 losetas de largo por 4 losetas de ancho?**

- A) 1
- B) 20
- C) 9
- D) 54

- **4. Toño compró un ordenador por 512 y tiene que pagar 68 ₺ por adelantado. ¿Cuanto resta por pagar?**

- A) 427
- B) 456
- C) 444
- D) 464