
	<b>INSTITUCIÓN EDUCATIVA HECTOR ABAD GOMEZ</b>		
	Proceso: <b>GESTIÓN CURRICULAR</b>	<b>Código</b>	
<b>Nombre del Documento: GUÍA DE TRABAJO PARA LA ATENCIÓN DE ESTUDIANTES EN LA PRESENCIALIDAD – JORNADA SABATINA</b>		<b>Versión 01</b>	<b>Página 1 de 6</b>

<b>INSTITUCIÓN EDUCATIVA HÉCTOR ABAD GÓMEZ</b>			
<b>DOCENTES: Érica Gómez – Francisco Rubio</b>		<b>NÚCLEO DE FORMACIÓN INTEGRADAS</b>	
<b>CLEI: 2</b>	<b>GRUPOS: Grupos 01, 02</b>	<b>PERIODO: 2</b>	<b>SEMANA: 12</b>
<b>NÚMERO DE SESIONES: 1</b>	<b>FECHA DE INICIO: 25 de abril</b>	<b>FECHA DE FINALIZACIÓN: 1 de mayo</b>	

### PROPÓSITO

Los estudiantes del clei 2 estarán en la capacidad al finalizar esta guía de reconocer, nombrar y ubicar geográficamente los continentes en un mapamundi

### ACTIVIDAD 1 (INDAGACION)



Observa y escribe las diferencias de los personajes de la imagen:

---

¿A qué crees que se deban esas diferencias?

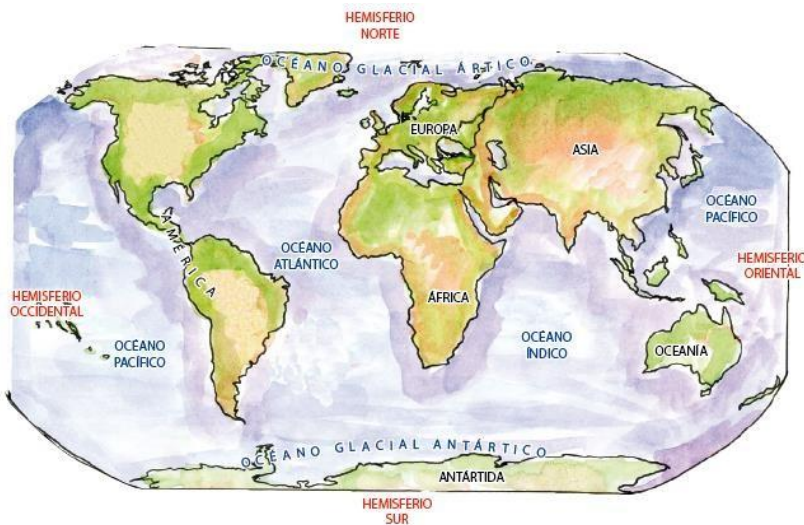
---

## ACTIVIDAD 2 (CONCEPTUALIZACIÓN)

### Descubriendo el supercontinente

Se cree que hace millones de años, los continentes estaban unidos formando una gran masa de tierra: un supercontinente llamado Pangea.

Muchos millones de años después, el continente se fraccionó y cada trozo fue moviéndose lentamente hasta encontrar su ubicación actual.



### ASIA

- Es considerado el continente más poblado del mundo.
- Allí encontramos países desarrollados como: China y Japón.

RELIEVE	ZONAS ALTAS	ZONAS BAJAS	CLIMA
- Muy variado, tiene: montañas muy altas y depresiones muy profundas.	- Montes Himalaya. - Everest (cumbre más alta de 8 846 m.s.n.m.)	- Mar Muerto (profundidad 395 m.s.n.m.)	- De frío a tropical lluvioso. - Tiene zonas desérticas.

## EUROPA

- El territorio europeo se encuentra geográficamente unido a Asia y en gran parte rodeado por las aguas de mares y océanos.
- Hay muchas ciudades importantes entre ellas: París, Londres, Roma, Madrid y Moscú.
- Los países que pertenecen a la Unión Europea tienen una sola moneda que es el \_\_\_\_\_.

RELIEVE	RÍOS	CLIMA	POBLACIÓN
- Llano (norte)	- Cortos y de poco caudal.	- Frío	- Muy poblado.
- Montañoso (este)	- Importantes: Rhin, Danubio, Volga.	- Templado	- Mezcla de culturas.

## ANTÁRTIDA: "El continente helado"

- Continente recién descubierto.

RELIEVE	CLIMA	VEGETACIÓN	FAUNA
- Cubierto de hielo (2 000 m. de espesor).	- Uno de los más fríos.	- Escasa	Focas, pingüinos, gaviotas, ballenas azules, elefantes marinos, etc.

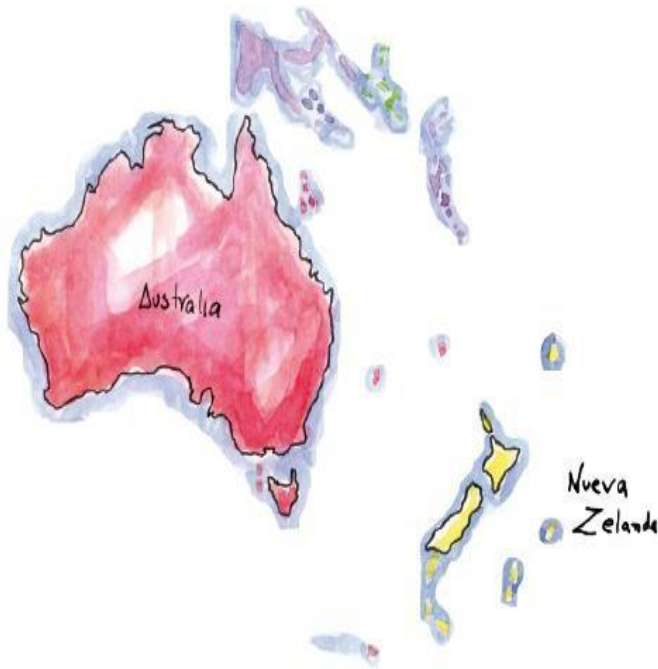
## ÁFRICA: El continente más caliente

- Tiene las más altas temperaturas del planeta y muchos recursos minerales por explotar.

RELIEVE	RÍO	CLIMA
Desierto: Sahara el más grande del mundo. Oasis: Afloran aguas subterráneas. Montañas: Cordillera de Kilimanyaro, Monte Atlas.	Nilo, más importante.	Cálido y lluvioso (Zona Ecuatorial). Extremo cálido seco (Zona Desértica).

## OCEANÍA

- Es el continente más pequeño.
- Está formado por miles de islas.
- Australia y Nueva Zelanda son las más extensas y las más desarrolladas.
- Se observa la riqueza de Australia y Nueva Zelanda, y la pobreza extrema de las islas aledañas que sobreviven gracias al turismo.



En Australia podemos encontrar importantes ciudades como Camberra y Sidney.

Los animales más representativos de Australia son:

- El canguro
- El demonio de Tazmania
- El ornitorrinco
- El wombat

## ACTIVIDAD 3 (APLICACIÓN Y EVALUACIÓN)

1. Completa los espacios en blanco:

- África presenta el \_\_\_\_\_ más grande del mundo llamado \_\_\_\_\_.
- África tiene un río muy importante para sus actividades económicas llamado \_\_\_\_\_.
- \_\_\_\_\_ es el continente más pequeño formado por miles de \_\_\_\_\_ siendo las más importantes: \_\_\_\_\_.
- Uno de los ríos más importantes de América del Sur es el \_\_\_\_\_.

2. Dibuja un animal que podamos encontrar en el continente Africano y Oceanía.

ÁFRICA	OCEANÍA

3. Completa el Geograma:

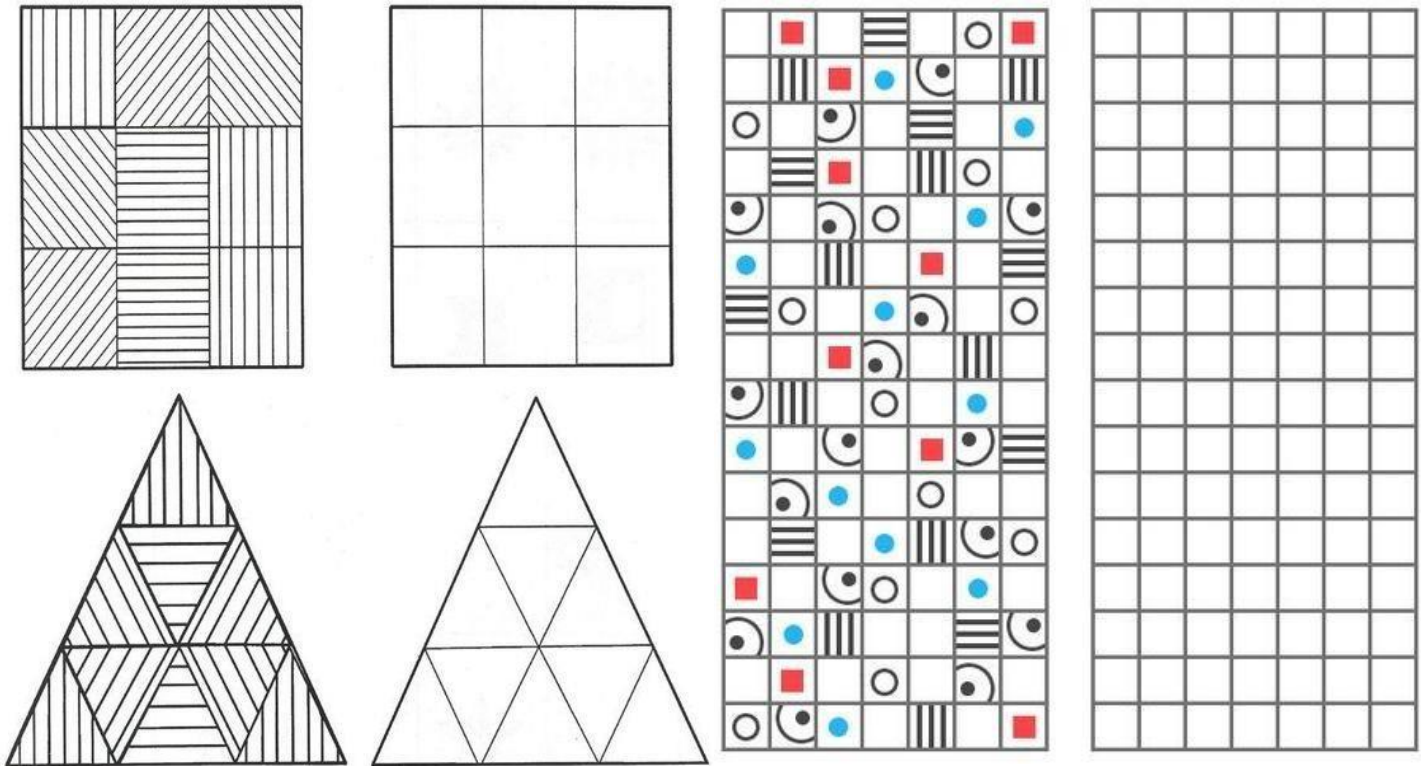
- Considerado el continente más poblado.
- Continente recién descubierto.
- En \_\_\_\_\_ se encuentran los ríos Rhin, Danubio y volga.
- Continente más pequeño.
- Se encuentra la cordillera de los Andes.



Geograma grid with clues:

- a** (triangle) above the 8th cell of the top row.
- e** (triangle) to the left of the 1st cell of the top row.
- d** (triangle) to the left of the 2nd cell of the 3rd row.
- b** (triangle) to the right of the 8th cell of the 3rd row.
- c** (triangle) to the left of the 1st cell of the 4th row.

4. Copia la siguiente cuadrícula



*ped-kopilka.ru*

**FUENTES DE CONSULTA:**

[https://redes.colombiaaprende.edu.co/ntg/men/archivos/Referentes\\_Calidad/](https://redes.colombiaaprende.edu.co/ntg/men/archivos/Referentes_Calidad/)